



# Itineraris

Reptes i realitats

coneixement del medi 1

25

SOLUCIONS

Atenció  
a la diversitat

- Encercla l'opció correcta:



- I tu, com et vesteixes quan fa mal temps?

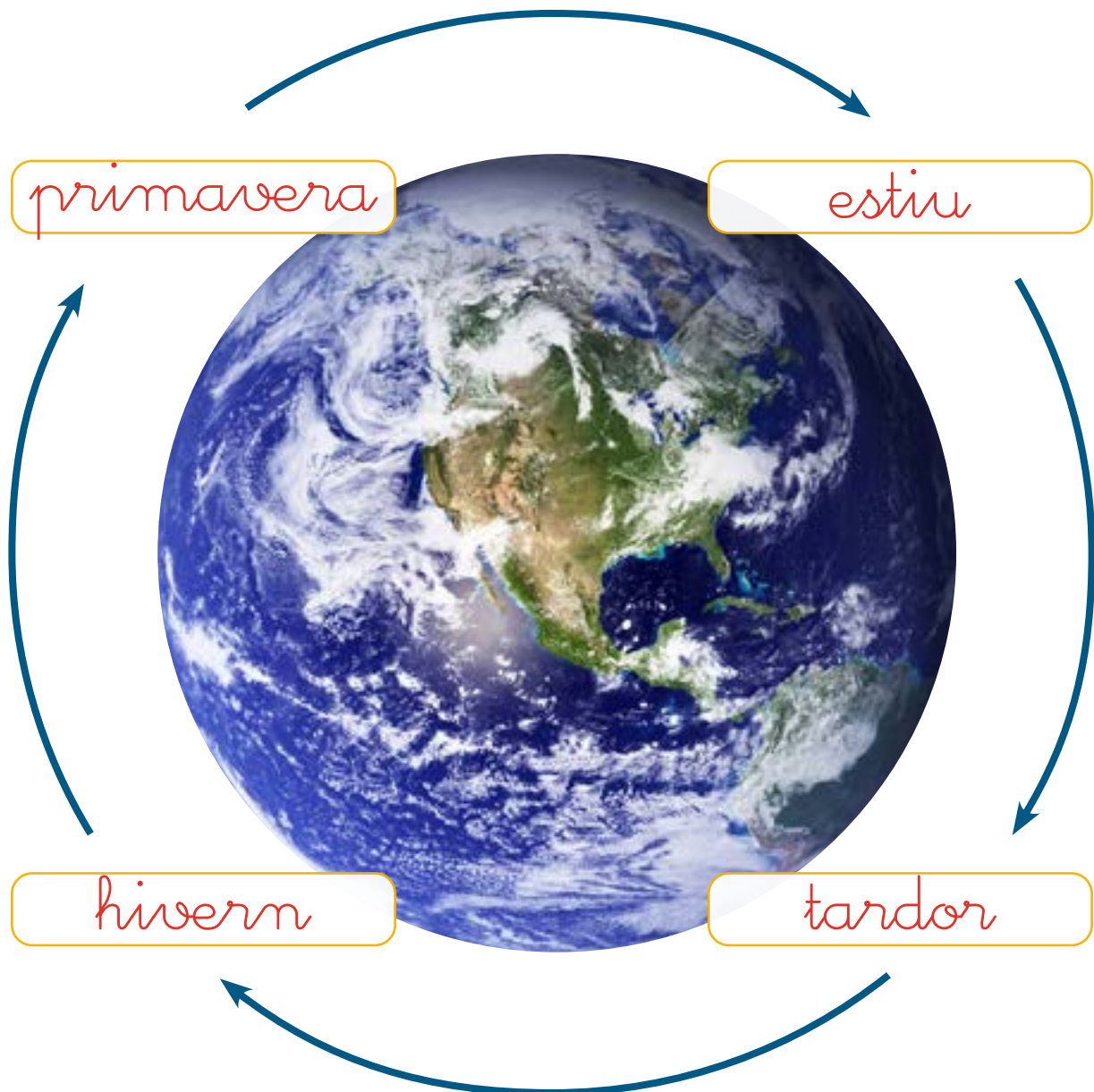
Resposta oberta

- I quan fa bon temps?

Resposta oberta



- Mira el vídeo i escriu el nom de cada estació seguint l'ordre en què apareixen en la filmació a intervals. Quina estació es representa primer?



- Quines estacions es representen en aquestes imatges? Retalla les fotografies i classifica-les segons les estacions que hi ha representades.



PRIMAVERA

*Activitat procedimental*

ESTIU

TARDOR

HIVERN



- Mira la previsió del temps i dibuixa els símbols en el mapa. Explica amb les teves paraules quin temps farà demà.



Activitat procedimental, amb resposta oberta

1 Els de primer han buscat fotografies de diferents indrets. Quin temps hi fa? Relaciona:

En quin d'aquests indrets fa mal temps?

1, 3, 4, 6

En quins NO s'haurà omplert el pluviòmetre?

2, 3, 5

2 Encercla els noms de les estacions:

tardor      estiu      sol  
 calor      fred      hivern  
 pluja      primavera      boira

NOM: ..... DATA: .....

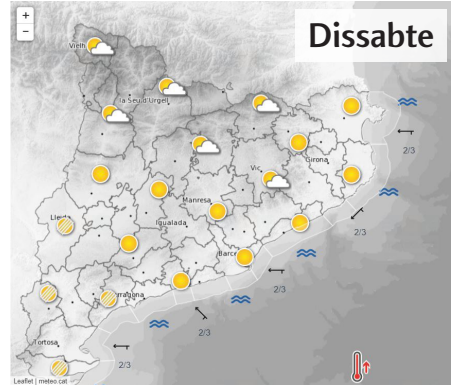
NOM: .....



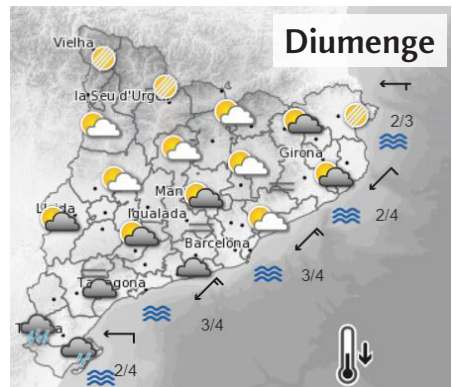
- 1 Els de primer miren els mapes del temps.  
Quin mapa mira cadascú?



Hi haurà boira  
a la muntanya.  
Estarà molt ennuvolat  
a tot arreu i hi haurà  
ruiscats i tempestes.  
Farà més fred  
i les temperatures  
baixaran.



Farà bon temps,  
però a la muntanya  
estarà núvol. Podrem  
anar a la platja.



La Tània mira el mapa de dissabte  
i en Pol mira el mapa de diumenge

- 2 Què et fa pensar en l'estiu? I en la tardor?  
Escriu tres paraules que relacionis amb cada  
estació:

hivern: fred, neu, abric

primavera: pluja, flors, samarreta

estiu: calor, sol, xamquetes

tardor: fulles seques, bolets, jaqueta