


1 Compta, fes grups de 10 i escriu amb lletres el nombre que obtens:



.....



.....



.....



.....

NOM:

2 Calcula:

$$\begin{array}{r} 42 \\ 8 \\ + 17 \\ \hline \end{array}$$

$$\begin{array}{r} 50 \\ 15 \\ + 24 \\ \hline \end{array}$$

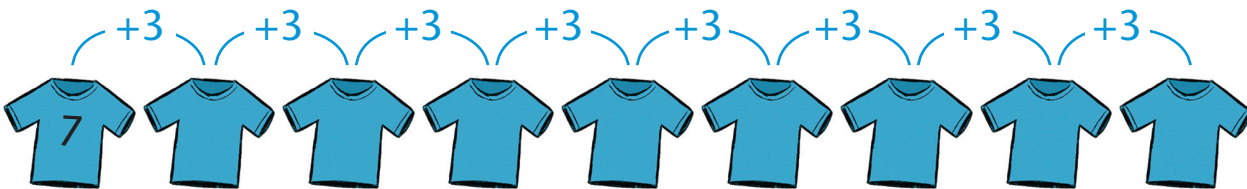
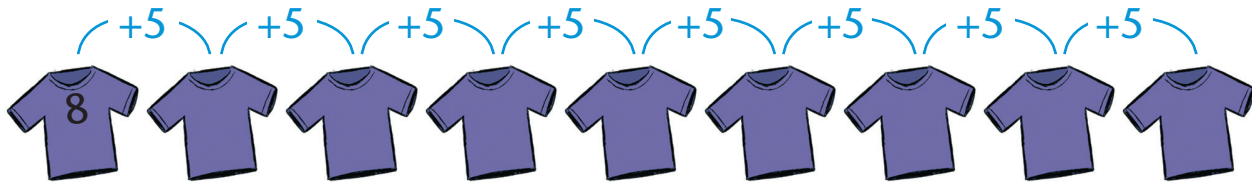
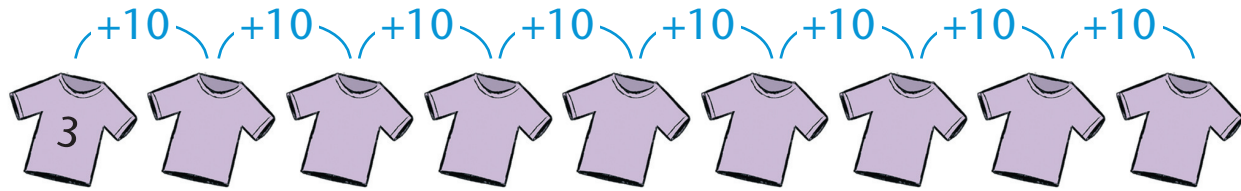
$$\begin{array}{r} 15 \\ 73 \\ + 9 \\ \hline \end{array}$$

$$\begin{array}{r} 56 \\ 9 \\ + 13 \\ \hline \end{array}$$

$$\begin{array}{r} 37 \\ 21 \\ + 18 \\ \hline \end{array}$$

$$\begin{array}{r} 25 \\ 62 \\ + 7 \\ \hline \end{array}$$

3 Continua les sèries:



4 Relaciona els mesos de l'any amb les estacions corresponents:

mesos

- gener •
- febrer •
- març •
- abril •
- maig •
- juny •
- juliol •
- agost •
- setembre •
- octubre •
- novembre •
- desembre •

estacions

TARDOR

HIVERN

PRIMAVERA

ESTIU

NOM:

SOLUCIONS

UNITAT 1

- 1 3 grups de 10 - trenta-vuit
1 grup de 10 - setze
5 grups de 10 - cinquanta-vuit
1 grup de 10 - dotze
- 2 67, 89, 97, 78, 76, 94
- 3 13, 23, 33, 43, 53, 63, 73, 83
13, 18, 23, 28, 33, 38, 43, 48
10, 13, 16, 19, 22, 25, 28, 31
- 4 gener, febrer, març - hivern
abril, maig, juny - primavera
juliol, agost, setembre - estiu
octubre, novembre, desembre – tardor