


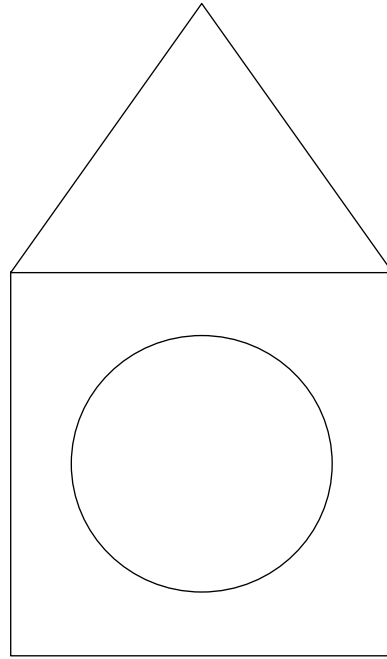


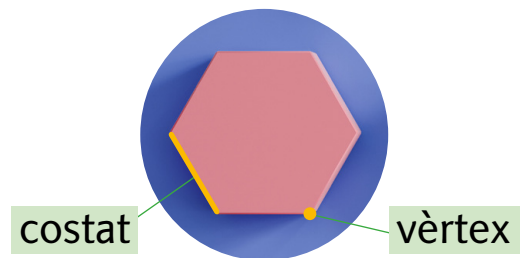
1 Trobes aquestes figures en la caixa niu? Pinta-les del color indicat:




-  TRIANGLE
-  RECTANGLE
-  CERCLE



2 Com partiries la caixa niu en dues parts iguals (simètriques)? Fes-ho amb una ratlla.

3 A veure si saps completar els costats i els vèrtexs d'aquestes figures:



| FIGURA | QUANTS COSTATS TÉ? | QUANTS VÈRTEXS TÉ? |
|---|--------------------|--------------------|
|  | | |
|  | | |
|  | | |

DATA:

NOM: