

• Relaciona:

- |                                    |     |                      |
|------------------------------------|-----|----------------------|
| 1 centena, 3 desenes, 4 unitats •  | 87  | • cent noranta-vuit  |
| 1 centena, 0 desenes, 6 unitats •  | 152 | • dos-cents          |
| 0 centenes, 8 desenes, 7 unitats • | 200 | • cent sis           |
| 1 centena, 5 desenes, 2 unitats •  | 198 | • cent trenta-quatre |
| 1 centena, 9 desenes, 8 unitats •  | 134 | • cent cinquanta-dos |
| 2 centenes, 0 desenes, 0 unitats • | 106 | • vuitanta-set       |

• Subratlla el nombre de cada notícia i relaciona:

Quatre-cents  
veïns sense llum

- tres centenes

Tres-centes persones  
sense feina

- dues centenes

Cinc-centes persones  
es manifesten

- cinc centenes

Dos-cents estudiants  
a la nova escola

- quatre centenes

• **Relaciona:**

125

• tres-cents setanta-nou

238

• cent vint-i-cinc

487

• cent quaranta-tres

379

• dos-cents trenta-vuit

143

- Quin nombre no has pogut relacionar? .....
- Com s'escriu amb lletres? .....

• **Combina les tres xifres de cada casella per a obtenir el nombre més gran i el nombre més petit possibles:**

	MÉS GRAN	MÉS PETIT
3 5 2		
8 1 6		
7 4 9		

• **Encercla en cada cas el nombre corresponent a la descomposició.**










674  
683  
684  
654  
674

93  
933  
903  
913  
391



- Combina les tres xifres de cada grup i escriu el nombre més gran i el nombre més petit possibles:

	EL MÉS GRAN	EL MÉS PETIT
		
		
		
		
		
		
		

- Quin és el nombre més gran que t'ha sortit? .....
- Quan vols fer el nombre més gran quina xifra poses en el lloc de les centenes, la més gran o la més petita? .....
- I quan vols fer el nombre més petit? .....

